

Vzdělávací oblast: **Člověk a jeho svět**

Předmět: **VLASTIVĚDA**

Určeno pro: 1 stupeň ZŠ / ročník: čtvrtý

Název: **POVRCH ČR - pohoří**


Metodické pokyny: Na každé straně děti najdou úkoly, které by pod vedením učitele měly plnit.  
Správné odpovědi poznají odkrytím rámečku.  
Jen několik málo odpovědí kontroluje učitel.  
V pravém dolním rohu je odkaz k přesunu na další stránku.  
Po splnění strany 4 nebo na závěrečné stránce se doporučuje pustit úvodní  
videozáznam (let vrtulníkem) z multimediálního CD Chytrý Honza na cestách.

Zdroje: CD Cliparts 120 000  
Multimediální CD Chytrý Honza na cestách

Autor: Lydie Bojková Lydie.Bojkova@seznam.cz , Masarykova ZŠ Návsi

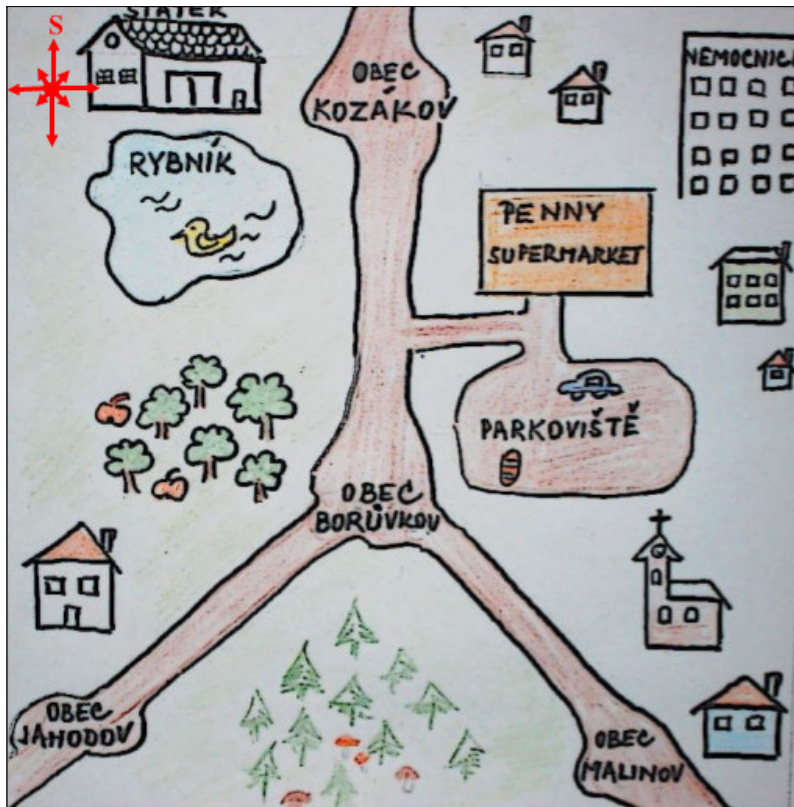
**Ahojte, děti,  
půjdeme dnes na hory?**

**Lepší ale bude, když poletíme!  
Jdu pro vznášedlo.**



**Nejdřív si však zkontroluji, jestli jste nezapomněly  
pracovat s kompasem. Kdo neumí poznávat světové  
strany nemůže se mnou letět. Bezpečnost nade vše!**





### KONTROLNÍ OTÁZKY:

1. Leží Kozákov na sever od PENNY?  
 ANO  NE
2. Leží parkoviště na západ od sadu?  
 ANO  NE
3. Dostaneš se z Kozákova k rybníku, když půjdeš na jih?  
 ANO  NE
4. Leží PENNY na východ od rybníka?  
 ANO  NE
5. Leží parkoviště od PENNY na jih?  
 ANO  NE
6. Je nemocnice na západ od PENNY?  
 ANO  NE
7. Zatáčí silnice z Malinova přímo na jih?  
 ANO  NE
8. Leží Kozákov na západ od nemocnice?  
 ANO  NE
9. Vede cesta z Kozákova do Borůvkova jižním směrem?  
 ANO  NE
10. Leží Kozákov na západ od Jahodova?  
 ANO  NE

Pod  uvidíš, zda jsi odpověděl správně.

**A TEĎ MŮŽEME VYRAZIT.....**



Jéje....doletěli jsme až k nám, do Návsí!  
Tady je nádherně.....těch hor kolem!

*Zde použita mapa Návsí a okolí z [www.Jablunkovsko.cz](http://www.Jablunkovsko.cz)*

Pojďme na další stranu. Podíváme se na jednotlivé hory a jejich výšky.



Tak tady máme všechny důležité výškové body okolí Návsi.  
 Přečtěme si všechny názvy, jistě některé velmi dobře znáte.

**KTERÉ?????**

Jablunkov	385 m	Kostelky	953 m
Velký Polom	1067 m	Bílý Kříž	943 m
Malý Polom	1060 m	Girová	939 m
Slavič	1054 m	Gruníček	832 m
Ostrý	1044 m	Skalka	831 m
Javorový	1032 m	Bahenec	822 m
Čantoryje	994 m	Kozinec	805 m
Kozubová	982 m	Filipka	762 m
Velký Stožek	978 m		

*Zde použita mapa Návsi a okolí  
 z [www.Jablunkovsko.cz](http://www.Jablunkovsko.cz)*

**Zakryjte si teď horní část tabule žaluzií a až splníte úkol schovaný dole, poletíme dál.**

Úkol pro Vás: Seřadte nejprve sestupně výšky hor - do sloupce.

Pak Vám p.uč. na 10 sekund odkryje roletu,

takže znovu uvidíte obrázek.

**PODAŘÍ SE VÁM PŘIŘADIT K NADMOŘSKÉ VÝŠCE JMÉNO HORY?**


**PŘIPRAVIT SE.....a jedeme na to!**



943 m  
 762 m 939 m  
 1060 m 953 m  
 805 m 982 m  
 994 m 1032 m  
 1054 m 978 m  
 385 m 832 m  
 822 m 831 m  
 1044 m 1067 m

Girová  
 Kozubová Malý Polom  
 Filipka Bahenec  
 Slavič Gruníček Skalka  
 Velký Stožek Čantoryje Kozinec Javorový  
 Kostelky Bílý Kříž Ostrý  
 Jablunkov Velký Polom


Pod kroužky najdeš názvy pohoří v ČR. Snaž se jich zapamatovat čím jak nejvíce.  
Jména pohoří zakryj, vezmi si pero a zkus vedle kroužku doplnit správný název.  
Kdo byl nejuspěšnější?



U každého pohoří je uveden jeho nejvyšší vrchol. Zapamatuj si ho.  
Můžeš si vrcholy zakrýt rámečkem a spolužák Tě bude kontrolovat. Pak přejdi na další stranu.

		Českomoravská vrch. Javořice	<input type="text"/>
<b>JESENÍKY</b> Praděd			<b>MORAVSKO-SLEZSKÉ</b>
<input type="text"/>	<b>ORLICKÉ H.</b> Velká Deštná	<b>ŠUMAVA</b> Plechý	<b>BESKYDY</b> Lysá hora
	<input type="text"/>	<input type="text"/>	<input type="text"/>
<b>ČESKÝ LES</b> Čerchov		<b>LUŽICKÉ H.</b> Luž	<b>KRUŠNÉ H.</b> Klínovec
<input type="text"/>		<input type="text"/>	<input type="text"/>
	<b>KRKONOŠE</b> Sněžka	<b>JIZERSKÉ H.</b> Smrk	
	<input type="text"/>	<input type="text"/>	
		<b>BRDY</b> Tok	
		<input type="text"/>	

**Do kroužků i na bílou plochu doplňuj znovu názvy pohoří a tentokrát nejvyšších vrcholů. Ke kontrole se vrať na předchozí strany. Dařilo se Ti?**






Za odměnu se poletíme podívat na některé hory.

**VY MI NEVĚŘÍTE!!!???**

Tak fiiiičiiiiímeeeeeeeece.....



## Obrázek vpravo je SNĚŽKA.

Je to nejvyšší hora ČR a Krkonoš.  
Své jméno dostala v 19. století,  
protože vždy byla dlouho sněhem pokrytá.

Nachází se na česko - polské hranici  
a měří **1602** m n.m.

Na toto místo vložit foto Pradědu.  
(např. z [www.jeseniky.net](http://www.jeseniky.net))

Sem vložit fotografii Sněžky.  
(např. z [www.trutnov.cz](http://www.trutnov.cz) nebo  
<http://snezka.net/> )

A vlevo je PRADĚD -  
nejvyšší hora Moravy a  
Hrubého Jeseníku.

Má kupovitý tvar.  
Na vrcholku je televizní  
vysílač.

A měří **1492 m n.m.**

Ale to je pro dnešek vše,  
jdu se projít na hory.

AHOJ

